

FERIENKURS EXPERIMENTALPHYSIK 4

2011

Übung 1 - Musterlösung

1. Freie Wellenpakete (**)

- Betrachten Sie ein Elektron, das sich mit dem Impuls $p = \hbar k$ in x -Richtung bewegt. Wie lautet die zugehörige Wellenfunktion $\psi(t, x)$?
- Bestimmen Sie die Phasengeschwindigkeit der Elektronenwelle aus a), indem Sie eine Stelle fester Phase im Laufe der Zeit durch den Raum verfolgen. Wie verhält sich die Phasengeschwindigkeit v_{Ph} der Welle zur Geschwindigkeit $v_{\text{T}} = p/m$ des Elektrons?
- Betrachten Sie nun ein Elektron, dessen Wellenfunktion durch eine kontinuierliche Überlagerung von ebenen Wellen der Form

$$\psi(t, x) = \frac{1}{\sqrt{2\pi}} \int_{-\infty}^{\infty} dk A(k) e^{-i(\omega(k)t - kx)}$$

gegeben ist. Dabei sollen alle vorkommenden Wellenzahlen in dem Intervall $[k_0 - \Delta k, k_0 + \Delta k]$ liegen und gleich stark beitragen, d.h. $A(k) = A_0 = \text{const.}$ Berechnen Sie die Wellenfunktion zum Zeitpunkt $t = 0$.

- Bei der Berechnung der Wellenfunktion des Elektrons aus c) für einen allgemeinen Zeitpunkt macht der nichtlineare Term $\omega(k)$ im Exponenten Probleme. Um $\psi(t, x)$ näherungsweise zu bestimmen, entwickeln Sie $\omega(k)$ um k_0 bis zur linearen Ordnung. Berechnen Sie nun das genäherte Integral für $\psi(t, x)$.

Lösung

- Die (nicht-normierte) Wellenfunktion zu einem eindeutig bestimmten Impuls p ist die ebene Welle

$$\psi(x) = e^{ikx}$$

mit $k = p/\hbar$. Ihre (freie) zeitliche Entwicklung ist

$$\psi(t, x) = e^{-i(\omega(k)t - kx)}$$

mit $\omega = E/\hbar$ und $E = p^2/(2m)$, also $\omega(k) = \hbar k^2/(2m)$.

Insgesamt ergibt sich also

$$\psi(t, x) = e^{-i\left(\frac{\hbar k^2}{2m}t - kx\right)}.$$

b) Konstante Phase bedeutet

$$\frac{\hbar k^2}{2m}t - kx = \text{const.} \quad \Rightarrow \quad x = \frac{\hbar k}{2m}t + \text{const.}$$

Die Phasengeschwindigkeit erhält man durch Differentiation nach der Zeit

$$v_{\text{Ph}} = \dot{x} = \frac{\hbar k}{2m} = \frac{p}{2m} = \frac{1}{2}v_{\text{T}}.$$

Die Phasengeschwindigkeit der Welle mit dem Impuls p ist also die Hälfte der Geschwindigkeit, die ein klassisches Teilchen mit diesem Impuls haben würde.

c) Laut Aufgabenstellung ist $A(k) = A_0$. Somit ist das angegebene Integral zum Zeitpunkt $t = 0$ dann

$$\psi(0, x) = \frac{A_0}{\sqrt{2\pi}} \int_{k_0 - \Delta k}^{k_0 + \Delta k} dk e^{ikx} = A_0 \sqrt{\frac{2}{\pi}} e^{ik_0 x} \frac{\sin(\Delta k \cdot x)}{x}.$$

Das ist eine um $x = 0$ lokalisierte Ortswellenfunktion. Man beachte den Phasenfaktor $e^{ik_0 x}$, der eine momentane Geschwindigkeit des Wellenpakets mit $v_0 = p_0/m = \hbar k_0/m$ bewirkt.

d) Wie in Teil a) gezeigt, lautet die Dispersionsrelation $\omega(k) = \hbar k^2/(2m)$. Die Linearisierung um $k = k_0$ liefert

$$\begin{aligned} \omega(k) &= \omega(k_0) + \left. \frac{d\omega}{dk} \right|_{k=k_0} (k - k_0) + \mathcal{O}(k^2) \approx \\ &\approx \frac{\hbar k_0^2}{2m} + \frac{\hbar k_0}{m} (k - k_0) =: \omega_0 + \omega'_0 (k - k_0). \end{aligned}$$

Somit kann man nun die Wellenfunktion für einen beliebigen Zeitpunkt approximativ berechnen.

$$\begin{aligned} \psi(t, x) &= \frac{A_0}{\sqrt{2\pi}} \int_{k_0 - \Delta k}^{k_0 + \Delta k} dk e^{-i[(\omega_0 + \omega'_0(k - k_0))t - kx]} = \\ &= \frac{A_0}{\sqrt{2\pi}} e^{-i\omega_0 t} e^{i\omega'_0 k_0 t} \int_{k_0 - \Delta k}^{k_0 + \Delta k} dk e^{-i(\omega'_0 t - x)k} = \\ &= \frac{A_0}{\sqrt{2\pi}} e^{-i\omega_0 t} e^{i\omega'_0 k_0 t} \frac{1}{-i(\omega'_0 t - x)} \left[e^{-i(\omega'_0 t - x)k} \right]_{k_0 - \Delta k}^{k_0 + \Delta k} = \\ &= A_0 \sqrt{\frac{2}{\pi}} e^{-i(\omega_0 t - k_0 x)} \frac{\sin[\Delta k(\omega'_0 t - x)]}{\omega'_0 t - x}. \end{aligned}$$

2. Linienspektren (**)

Sie beobachten zwei Linienspektren von Ein-Elektron-Systemen. Sie messen jeweils die drei größten und die kleinste Wellenlänge einer Serie.

Serie 1 [nm]	Serie 2 [nm]
468.135	484.282
320.012	250.964
273.072	173.271
204.854	23.332

- Um welche Systeme handelt es sich (beobachtetes Element und Grundzustand der beobachteten Serie)?
- Welche Übergänge wurden beobachtet?

Lösung

In Ein-Elektron-Systemen kann die Übergangsenergie (in eV) zwischen zwei Zuständen mit den Hauptquantenzahlen n_1 und n_2 durch die Formel

$$\Delta E = \text{Ry}^* \cdot Z^2 \left(\frac{1}{n_1^2} - \frac{1}{n_2^2} \right)$$

beschrieben werden. $\text{Ry}^* = 13.6 \text{ eV}$ ist dabei die Ionisierungsenergie des Wasserstoffatoms. Um die Aufgabe zu lösen werden nur die kürzeste und die längste Wellenlänge benötigt. Seien im Folgenden n_1 der Grundzustand, n_2 ein Zustand darüber und alle Energien in eV.

- Für die Ionisierungsenergie (gegeben durch die kürzeste Wellenlänge) gilt $hc/\lambda_{\min} = E_{\text{Ion}} = \text{Ry}^* \cdot Z^2/n_1^2$ und somit

$$n_1 = Z \sqrt{\frac{\text{Ry}^*}{E_{\text{Ion}}}}$$

Des Weiteren gilt für die Übergangsenergie ΔE von $n_2 = n_1 + 1$ nach n_1 (gegeben durch die längste Wellenlänge)

$$\frac{hc}{\lambda_{\max}} = \Delta E = \text{Ry}^* \cdot Z^2 \left[\frac{1}{n_1^2} - \frac{1}{(n_1 + 1)^2} \right]$$

Aus den beiden obigen Gleichungen erhält man

$$Z \sqrt{\frac{\text{Ry}^*}{E_{\text{Ion}}}} + 1 = \pm Z \sqrt{\frac{\text{Ry}^*}{E_{\text{Ion}} - \Delta E}}$$

Durch Auflösen nach Z erhält man (nur das positive Vorzeichen macht hier Sinn)

$$Z = \left(\sqrt{\frac{Ry^*}{E_{\text{Ion}} - \Delta E}} - \sqrt{\frac{Ry^*}{E_{\text{Ion}}}} \right)^{-1}$$

erhält man für Serie 1 $Z \approx 2$ (Helium) und für Serie 2 $Z \approx 79$ (Gold).

- b) Setzt man nun die gefundenen Ordnungszahlen in die erste Formel aus a) ein so erhält man für Serie 1 $n_1 \approx 3$ (Übergang $4 \rightarrow 3$) und für Serie 2 $n_1 \approx 40$ (Übergang $41 \rightarrow 40$).

3. Ortswellenfunktion, Wahrscheinlichkeitsinterpretation (*)

Die quantenmechanische Wellenfunktion eines Teilchens sei gegeben durch

$$\psi(x) = Nx e^{-a\frac{|x|}{2}}.$$

- a) Bestimmen Sie den Normierungsfaktor N so, dass die Wellenfunktion auf Eins normiert ist, d.h. dass

$$\int_{-\infty}^{\infty} dx |\psi(x)|^2 = 1$$

gilt und begründen Sie die Notwendigkeit von normierten Wellenfunktionen für die Wahrscheinlichkeitsinterpretation in der Quantenmechanik. Welche Einheit hat die Wellenfunktion?

- b) Wie groß ist die Wahrscheinlichkeit das Teilchen am Ort $x = 0$ zu finden? Wie groß ist die Wahrscheinlichkeit das Teilchen im Intervall $[-1/a, 1/a]$ zu finden?

Hinweis: $x^n e^{-ax} = (-d/da)^n e^{-ax}$.

Lösung

- a) Für das Integral über das Betragsquadrat der Wellenfunktion erhält man

$$\begin{aligned} \int_{-\infty}^{\infty} dx |\psi(x)|^2 &= \int_{-\infty}^{\infty} dx N^2 x^2 e^{-a|x|} = 2N^2 \int_0^{\infty} dx x^2 e^{-ax} = 2N^2 \int_0^{\infty} dx \frac{d^2}{da^2} e^{-ax} = \\ &= 2N^2 \frac{d^2}{da^2} \int_0^{\infty} dx e^{-ax} = 2N^2 \frac{d^2}{da^2} \left[-\frac{1}{a} e^{-ax} \right]_0^{\infty} = 2N^2 \frac{d^2}{da^2} \frac{1}{a} = \\ &= \frac{4N^2}{a^3} \stackrel{!}{=} 1 \quad \Rightarrow \quad N = \frac{a^{3/2}}{2}. \end{aligned}$$

Die (bis auf einen konstanten Phasenfaktor) normierte Wellenfunktion lautet somit

$$\psi(x) = \frac{a^{3/2}}{2} x e^{-a \frac{|x|}{2}}.$$

Der Normierungsfaktor ist notwendig um (wie in der Vorlesung erwähnt) $|\psi(x)|^2$ als Wahrscheinlichkeitsdichte interpretieren zu können. Über den gesamten Raum integriert muss sie Eins ergeben, da sich das mit ihr assoziierte Teilchen irgendwo im Raum befinden muss.

Da $|\psi(x)|^2$ eine eindimensionale Wahrscheinlichkeitsdichte mit der Dimension $1/\text{m}$ ist, muss $\psi(x)$ selbst die Dimension $1/\sqrt{\text{m}}$ haben.

- b) Die Wahrscheinlichkeit das Teilchen exakt an einem gegebenen Ort zu finden ist Null. Die Wahrscheinlichkeit P das Teilchen im Intervall $[-1/a, 1/a]$ zu finden ist

$$\begin{aligned} P &= \int_{-1/a}^{1/a} dx |\psi(x)|^2 = \dots = 2N^2 \frac{d^2}{da^2} \left[-\frac{1}{a} e^{-ax} \right]_0^{1/a} = 2N^2 \left(1 - \frac{1}{e} \right) \frac{d^2}{da^2} \frac{1}{a} = \\ &= 2N^2 \left(1 - \frac{1}{e} \right) \frac{2}{a^3} = 2 \frac{a^3}{4} \left(1 - \frac{1}{e} \right) \frac{2}{a^3} = 1 - \frac{1}{e} \approx 0.63. \end{aligned}$$

4. Potentialkasten (*)

Ein kräftefreies Teilchen befindet sich in einem Potential

$$V(x) = \begin{cases} 0 & \text{für } -\frac{a}{2} < x < \frac{a}{2} \\ \infty & \text{sonst} \end{cases}$$

in einem seiner stationären Zustände

$$\varphi_n(x) = \sqrt{\frac{2}{a}} \cos\left(\frac{n\pi x}{a}\right).$$

- a) Zeigen Sie, dass diese Zustände normiert sind und bestimmen sie die Energieeigenwerte E_n . Welche Energie ist nötig um ein Elektron, das sich in einem Potentialkasten der Breite 1 nm befindet, vom Grundzustand in den zweiten angeregten Zustand anzuregen.
Hinweis: Masse des Elektrons $m_e = 9.11 \cdot 10^{-31} \text{ kg} = 511 \text{ keV}/c^2$
- b) Berechnen Sie den Erwartungswert des Ortes x und des Impulsoperators \hat{p} für die stationären Zustände und interpretieren Sie die Ergebnisse.
- c) Berechnen Sie die Energieunschärfe $\Delta \hat{H}$ für die stationären Zustände und interpretieren Sie das Ergebnis.

- d) Nehmen Sie nun an, das Potential hätte eine endliche Höhe. Was bedeutet dies qualitativ für das Teilchen?

Hinweis: $\int dx \cos^2(ax) = \frac{\sin(2ax)}{4a} + \frac{x}{2} + \text{const.}$

Lösung

- a) Für das Integral über das Betragsquadrat der Wellenfunktion ergibt sich

$$\begin{aligned} \int_{-\infty}^{\infty} dx |\varphi_n(x)|^2 &= \frac{2}{a} \int_{-a/2}^{a/2} dx \cos^2\left(\frac{n\pi x}{a}\right) = \frac{4}{a} \int_0^{a/2} dx \cos^2\left(\frac{n\pi x}{a}\right) = \\ &= \frac{4}{a} \left[\frac{\sin\left(2\frac{n\pi x}{a}\right)}{4\frac{n\pi}{a}} + \frac{x}{2} \right]_0^{a/2} = \frac{4}{a} \left(\frac{\sin(n\pi)}{4\frac{n\pi}{a}} + \frac{a}{4} \right) = \frac{4}{a} \frac{a}{4} = 1. \end{aligned}$$

Die stationären Zustände $\varphi_n(x)$ sind also normiert.

Die Schrödinger-Gleichung im interessierenden Bereich $[-a/2, a/2]$ lautet

$$-\frac{\hbar^2}{2m} \frac{d^2}{dx^2} \varphi_n(x) = E_n \varphi_n(x).$$

Setzt man die stationären Zustände ein erhält man

$$\frac{\hbar^2}{2m} \frac{n^2 \pi^2}{a^2} \sqrt{\frac{2}{a}} \cos\left(\frac{n\pi x}{a}\right) = E_n \sqrt{\frac{2}{a}} \cos\left(\frac{n\pi x}{a}\right).$$

Die Eigenenergien lauten somit

$$E_n = \frac{\hbar^2 n^2 \pi^2}{2ma^2} = n^2 E_1.$$

mit der sog. Nullpunktsenergie E_1 . Die notwendige Anregungsenergie für das Elektron beträgt

$$E_3 - E_1 = 8E_1 = 3.00 \text{ eV.}$$

- b) Für den Erwartungswert des Ortes gilt

$$\langle x \rangle = \int_{-\infty}^{\infty} dx \varphi_n^*(x) x \varphi_n(x) = \int_{-a/2}^{a/2} dx x |\varphi_n(x)|^2 = 0.$$

Für den Erwartungswert des Impulsoperators gilt

$$\begin{aligned}
 \langle \hat{p} \rangle &= \int_{-\infty}^{\infty} dx \varphi_n^*(x) \left(-i\hbar \frac{d}{dx} \right) \varphi_n(x) = \\
 &= -i\hbar \frac{2}{a} \int_{-a/2}^{a/2} dx \cos\left(\frac{n\pi x}{a}\right) \frac{d}{dx} \cos\left(\frac{n\pi x}{a}\right) = \\
 &= i\hbar \frac{2n\pi}{a^2} \int_{-a/2}^{a/2} dx \cos\left(\frac{n\pi x}{a}\right) \sin\left(\frac{n\pi x}{a}\right) = 0.
 \end{aligned}$$

Der Erwartungswert des Ortes liegt natürlich in der Mitte des Potentialkastens. Dass der Erwartungswert des Impulses verschwindet wird ersichtlich wenn man sich überlegt, dass sich das Teilchen im Potentialkasten in beide Richtungen bewegen kann. Zu jedem Impuls in positive x -Richtung gibt es auch einen Impuls in negative x -Richtung. Der Erwartungswert muss also dementsprechend verschwinden.

c) Die Energieunschärfe $\Delta \hat{H}$ ist gegeben durch

$$\Delta \hat{H} = \sqrt{\langle \hat{H}^2 \rangle - \langle \hat{H} \rangle^2}.$$

Für die Erwartungswerte von \hat{H} und \hat{H}^2 erhält man

$$\begin{aligned}
 \langle \hat{H} \rangle &= \int_{-\infty}^{\infty} dx \varphi_n^*(x) \left(-\frac{\hbar^2}{2m} \frac{d^2}{dx^2} \right) \varphi_n(x) = \\
 &= -\frac{2}{a} \frac{\hbar^2}{2m} \int_{-a/2}^{a/2} dx \cos\left(\frac{n\pi x}{a}\right) \frac{d^2}{dx^2} \cos\left(\frac{n\pi x}{a}\right) = \\
 &= \frac{2}{a} \frac{\hbar^2}{2m} \left(\frac{n\pi}{a}\right)^2 2 \int_0^{a/2} dx \cos^2\left(\frac{n\pi x}{a}\right) = \frac{2}{a} \frac{\hbar^2}{2m} \left(\frac{n\pi}{a}\right)^2 2 \frac{a}{4} = \\
 &= \frac{\hbar^2 n^2 \pi^2}{2ma^2} = E_n.
 \end{aligned}$$

$$\begin{aligned}
\langle \hat{H}^2 \rangle &= \int_{-\infty}^{\infty} dx \varphi_n^*(x) \left(\frac{\hbar^4}{4m^2} \frac{d^4}{dx^4} \right) \varphi_n(x) = \\
&= \frac{2}{a} \frac{\hbar^4}{4m^2} \int_{-a/2}^{a/2} dx \cos\left(\frac{n\pi x}{a}\right) \frac{d^4}{dx^4} \cos\left(\frac{n\pi x}{a}\right) = \\
&= \frac{2}{a} \frac{\hbar^4}{4m^2} \left(\frac{n\pi}{a}\right)^4 2 \int_0^{a/2} dx \cos^2\left(\frac{n\pi x}{a}\right) = \frac{2}{a} \frac{\hbar^4}{4m^2} \left(\frac{n\pi}{a}\right)^4 2 \frac{a}{4} = \\
&= \frac{\hbar^4 n^4 \pi^4}{4m^2 a^4} = \left(\frac{\hbar^2 n^2 \pi^2}{2ma^2} \right)^2 = E_n^2.
\end{aligned}$$

Die Energieunschärfe lautet somit

$$\Delta \hat{H} = \sqrt{\langle \hat{H}^2 \rangle - \langle \hat{H} \rangle^2} = \sqrt{E_n^2 - E_n^2} = 0.$$

Die Energieunschärfe verschwindet natürlich, da die stationären Zustände Eigenzustände des Hamilton-Operators sind. Die Energie ist also scharf messbar.

- d) Die Teilchen können nun etwas in den Bereich außerhalb des Kastens eindringen, dadurch ändert sich die Wellenfunktion. Die vorherigen Randbedingungen $\varphi_n(-a/2) = \varphi_n(a/2) = 0$ gelten nicht mehr. Die Wellenlänge wird größer und damit die Energien kleiner.

5. Potentialbarriere (***)

Ein Teilchen mit Masse m und kinetischer Energie $E < V_0$ trifft von links auf eine Potentialbarriere der Form

$$V(x) = V_0 \Theta(x) \Theta(a-x) = \begin{cases} V_0 & \text{für } 0 < x < a \\ 0 & \text{sonst} \end{cases}.$$

mit $V_0 > 0$.

- Wie lautet der Ansatz für die Wellenfunktion $\psi(x)$? Überlegen Sie sich dazu auch die physikalischen Randbedingungen, also aus welchen Anteilen die in den einzelnen Bereichen auftretenden Lösungen bestehen können. Skizzieren Sie das Potential und die Wellenfunktion.
- Ermitteln Sie die Bestimmungsgleichungen für die in der Wellenfunktion auftretenden Koeffizienten aus der Bedingung, dass die Wellenfunktion stetig

differenzierbar sein soll. Sie sollen diese Bestimmungsgleichungen nicht lösen!

- c) Wie nennt man den hier auftretenden Effekt der sich aus der Wellenfunktion erkennen lässt? Erklären Sie diesen Effekt kurz.

Gehen Sie nun vom Fall $a \rightarrow \infty$ aus. Aus der Potentialbarriere wird somit eine Potentialschwelle

$$V(x) = V_0 \Theta(x) = \begin{cases} 0 & \text{für } x < 0 \\ V_0 & \text{für } x > 0 \end{cases}.$$

- d) Wie lautet nun der Lösungsansatz? Bestimmen Sie die dabei auftretenden Koeffizienten und bestimmen Sie die Reflexionswahrscheinlichkeit R für den Fall $E = V_0/2$.

Hinweis: Die Resultate aus c) könnten nützlich sein. Die Reflexionswahrscheinlichkeit R ist das Betragsquadrat der Amplitude der reflektierten Welle.

- e) Wie lautet der Lösungsansatz für den Fall $E > V_0$? Was hat sich nun effektiv geändert? Bestimmen Sie die Reflexions- R und die Transmissionswahrscheinlichkeit T für den Fall $E = 9V_0/5$ und zeigen Sie dass $R + T = 1$ gilt.

Hinweis: Die Transmissionswahrscheinlichkeit ist das Betragsquadrat der Amplitude der transmittierten Welle multipliziert mit dem Quotient aus dem Wellenvektor der transmittierten Welle und dem Wellenvektor der reflektierten Welle.

Lösung

- a) In Bereich I ($x < 0$) lautet die Schrödinger-Gleichung

$$-\frac{\hbar^2}{2m} \frac{d^2}{dx^2} \psi_I(x) = E \psi_I(x) = \frac{\hbar^2 k^2}{2m} \psi_I(x),$$

bzw. umgeformt

$$\psi_I''(x) + k^2 \psi_I(x) = 0,$$

mit Wellenvektor $k = \sqrt{2mE}/\hbar > 0$. Die Lösungen dieser DGL sind von der Form

$$\psi_I(x) = A e^{ikx} + \rho e^{-ikx}.$$

Dabei handelt es sich um eine einfallende Welle mit Amplitude A , wobei man o.B.d.A. $A = 1$ wählen kann, und eine reflektierte Welle mit Amplitude ρ .

In Bereich II ($0 < x < a$) lautet die Schrödinger-Gleichung

$$-\frac{\hbar^2}{2m} \frac{d^2}{dx^2} \psi_{II}(x) + V_0 \psi_{II}(x) = E \psi_{II}(x) = \frac{\hbar^2 k^2}{2m} \psi_{II}(x),$$

bzw. umgeformt

$$\psi_{II}''(x) - \kappa^2 \psi_{II}(x) = 0,$$

mit Wellenvektor $\kappa = \sqrt{2m(V_0 - E)}/\hbar > 0$.

Die Lösungen dieser DGL sind von der Form

$$\psi_{\text{II}}(x) = Be^{\kappa x} + Ce^{-\kappa x}.$$

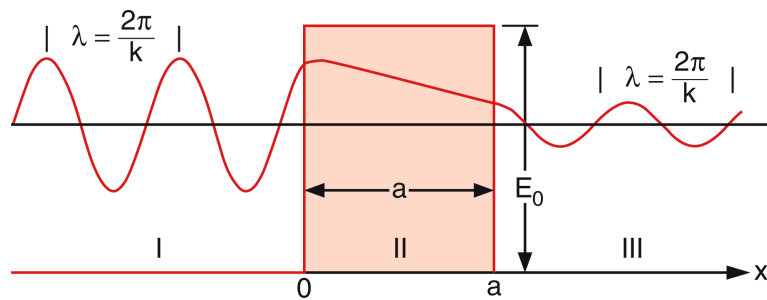
In Bereich III ($x > a$) ist die Schrödinger-Gleichung analog zu Bereich I ($x < 0$), die Lösung ist daher von der Form

$$\psi_{\text{III}}(x) = \tau e^{ik(x-a)} + De^{-ik(x-a)}$$

mit dem selben Wellenvektor k wie in Bereich I. Der Koeffizient D muss hier gleich Null sein, da sich sonst das Teilchen auch von rechts an die Barriere annähern würde. Hier handelt es sich also nur noch um eine transmittierte Welle, die an der Stelle $x = a$ gerade die volle Amplitude τ besitzt.

Insgesamt erhält man also als Ansatz für die Wellenfunktion

$$\psi(x) = \begin{cases} e^{ikx} + \rho e^{-ikx} & \text{für } x < 0 \\ Be^{\kappa x} + Ce^{-\kappa x} & \text{für } 0 < x < a \\ \tau e^{ik(x-a)} & \text{für } x > a \end{cases}$$



- b) An der Stelle $x = 0$ muss $\psi_{\text{I}}(0) = \psi_{\text{II}}(0)$ und $\psi'_{\text{I}}(0) = \psi'_{\text{II}}(0)$ gelten. Man erhält somit die 2 Gleichungen

$$\begin{aligned} 1 + \rho &= B + C \\ ik(1 - \rho) &= -\kappa(B - C). \end{aligned}$$

An der Stelle $x = a$ muss $\psi_{\text{II}}(a) = \psi_{\text{III}}(a)$ und $\psi'_{\text{II}}(a) = \psi'_{\text{III}}(a)$ gelten. Man erhält somit die 2 Gleichungen

$$\begin{aligned} Be^{-\kappa a} + Ce^{\kappa a} &= \tau \\ -\kappa Be^{-\kappa a} + \kappa Ce^{\kappa a} &= ik\tau. \end{aligned}$$

- c) Es handelt sich hierbei um den Tunneleffekt. Teilchen mit der Energie E können mit einer von Null verschiedenen Wahrscheinlichkeit in Potentialbereiche $V_0 > E$ eindringen und diese sogar durchtunneln, was aus klassischer Sicht nicht möglich wäre.

- d) Hier müssen nur noch zwei Bereiche betrachtet werden. Für Bereich I ($x < 0$) lautet die Lösung analog zu c)

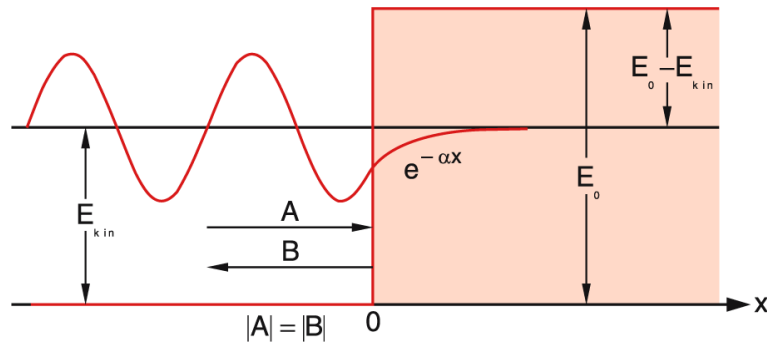
$$\psi_{\text{I}}(x) = Ae^{ikx} + Be^{-ikx}$$

mit Wellenvektor $k = \sqrt{2mE}/\hbar > 0$. Auch hier wählen wir o.B.d.A. $A = 1$. Im Bereich II ($x > 0$) lautet die Lösung analog zu c)

$$\psi_{\text{II}}(x) = Ce^{\kappa x} + De^{-\kappa x}$$

mit Wellenvektor $\kappa = \sqrt{2m(V_0 - E)}/\hbar > 0$. Aufgrund der Normierungsbedingung muss $C = 0$ sein, da sonst $\psi_{\text{II}}(x)$ für $x \rightarrow \infty$ divergieren würde. Zusammenfassend erhalten wir also

$$\psi(x) = \begin{cases} e^{ikx} + Be^{-ikx} & \text{für } x < 0 \\ De^{-\kappa x} & \text{für } x > 0 \end{cases}$$



Aus den Anschluss- und Stetigkeitsbedingungen erhalten wir analog zu c) das Gleichungssystem

$$\begin{aligned} 1 + B &= D \\ ik(1 - B) &= -\kappa D. \end{aligned}$$

Daraus erhält man mit

$$\frac{\kappa}{k} = \frac{\sqrt{2m(V_0 - E)}/\hbar}{\sqrt{2mE}/\hbar} = \sqrt{\frac{V_0}{E} - 1}$$

für die Koeffizienten B und D

$$\begin{aligned} B &= \frac{1 - \sqrt{1 - V_0/E}}{1 + \sqrt{1 - V_0/E}} \\ D &= \frac{2}{1 + \sqrt{1 - V_0/E}}. \end{aligned}$$

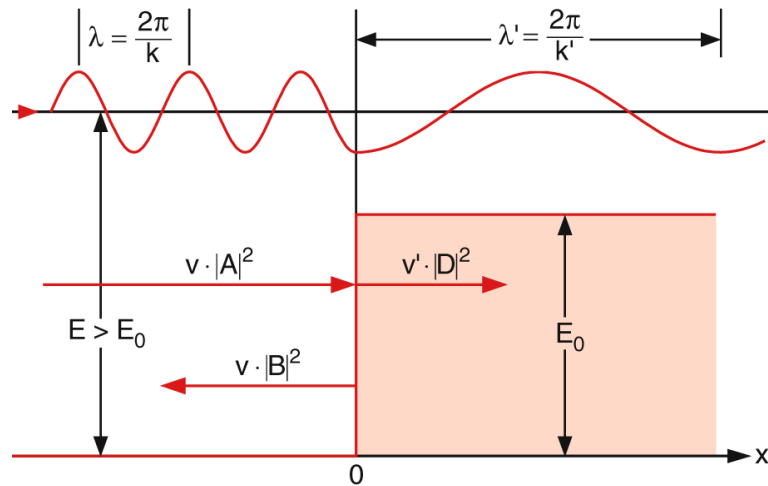
Die Reflexionswahrscheinlichkeit R für den Fall $E = V_0/2$ ist nun gegeben durch

$$R = |B|^2 = \left| \frac{1 - \sqrt{1-2}}{1 + \sqrt{1-2}} \right|^2 = \left| \frac{1-i}{1+i} \right|^2 = 1.$$

Die einfallende Welle wird also vollständig reflektiert. Trotzdem gibt es eine von Null verschiedene Aufenthaltswahrscheinlichkeit der Welle in der Barriere.

- e) Für den Fall $E > V_0$ ist die Wellenfunktion in Bereich I ($x < 0$) dieselbe wie davor (auch in diesem Fall gibt es einen reflektierten Anteil). In Bereich II ($x > 0$) jedoch ist die Wellenfunktion nun nicht mehr exponentiell abfallend sondern besteht aus einer transmittierten Welle mit Wellenvektor $k' = \sqrt{2m(E - V_0)}/\hbar$. Die Wellenfunktion lautet also insgesamt

$$\psi(x) = \begin{cases} e^{ikx} + Be^{-ikx} & \text{für } x < 0 \\ De^{ik'x} & \text{für } x > 0 \end{cases}.$$



Für die Koeffizienten B und D erhalten wir die selben Ausdrücke wie in d), nur sind die Wurzeln hier reell. Für $E = 9V_0/5$ ergibt sich die Reflexionswahrscheinlichkeit

$$R = |B|^2 = \left| \frac{1 - \sqrt{1-5/9}}{1 + \sqrt{1-5/9}} \right|^2 = \left| \frac{1/3}{5/3} \right|^2 = \frac{1}{25}$$

und die Transmissionswahrscheinlichkeit

$$T = \frac{k'}{k} |D|^2 = \sqrt{1 - \frac{5}{9}} \left| \frac{2}{1 + \sqrt{1-5/9}} \right|^2 = \frac{2}{3} \left| \frac{2}{5/3} \right|^2 = \frac{24}{25}.$$

Es gilt also $R + T = 1$ wie es die Energieerhaltung fordert.